





NOTA. Observar el siguiente video y vamos a sumar

<https://www.youtube.com/watch?v=wGuxuFdi4rs>




 +  =

 +  =

 +  =




 +  =




 +  =




 +  =  + =

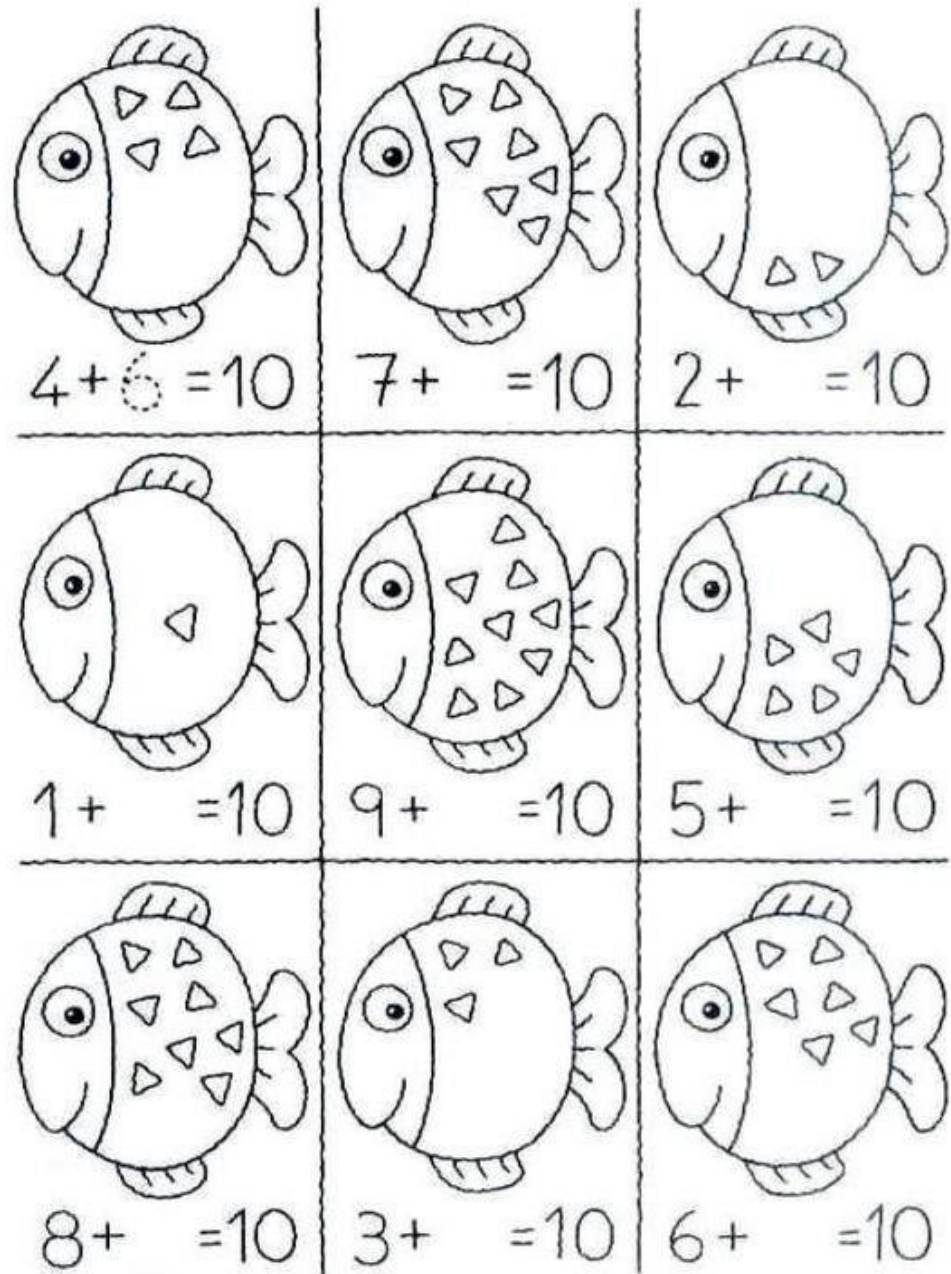
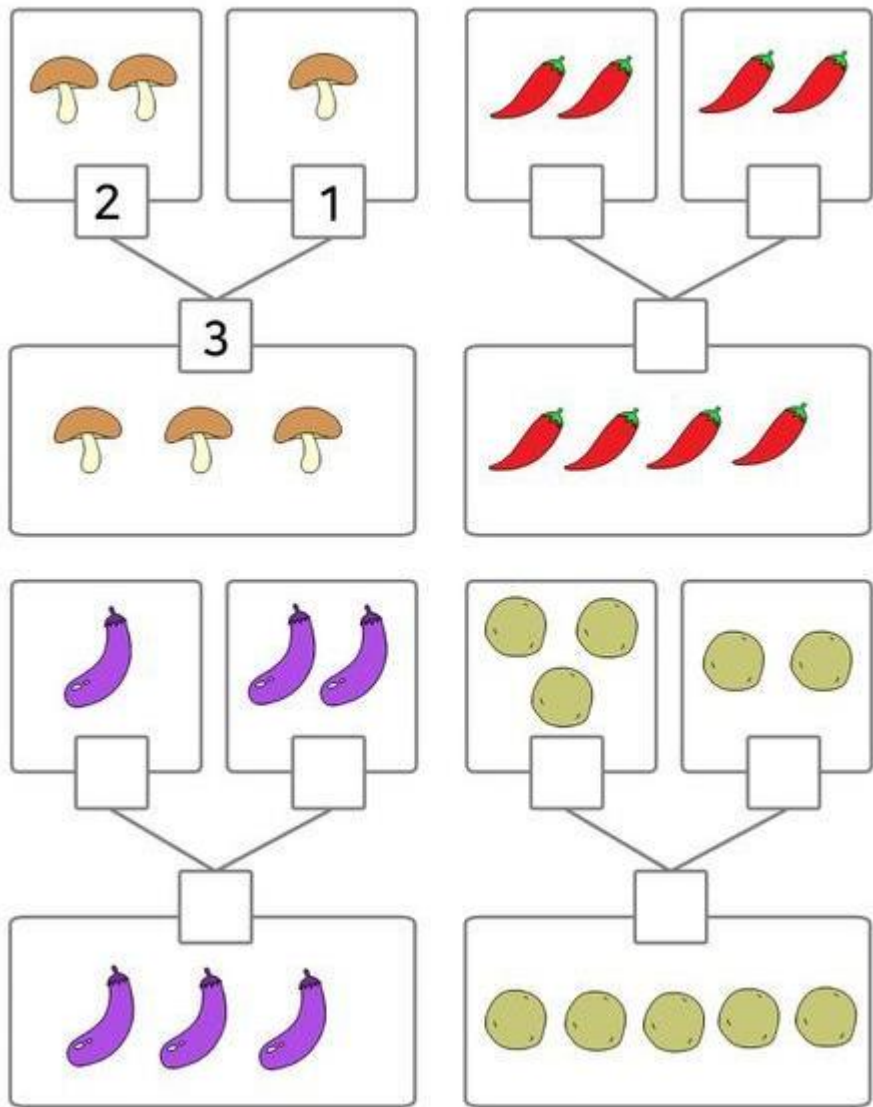
 +  =  + =


 +  =  + =

 +  =  + =

 +  =  + =

 +  =  + =






Nombre: _____



Sumas




$6+4=$



$2+8=$



$5+1=$




$7+2=$




$1+1=$

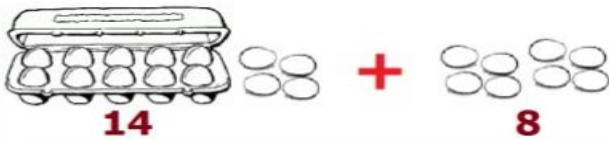
NOTA. Observar el siguiente video y vamos a restar
<https://www.youtube.com/watch?v=42vjqtG9E>

> Resuelve

 $8 + 6 = \square$

 $12 - 4 = \square$

 $10 - 3 = \square$

 $14 + 8 = \square$

educaplanet GRIN

RESTAR

quitar menos

restar quedan



diferencia ¿cuántos más?

¿A qué se parece?

 $5 - 2 = 3$

educaplanet.com



ESTRATEGIAS PARA RESTAR

CONTAR HACIA ATRÁS:
usa la línea de números

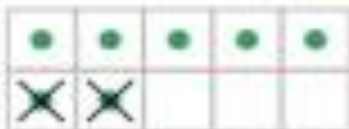
$$4 - 3 = \boxed{1}$$



TACHA PUNTOS

Dibuja puntos (el número mayor) y tacha los que restas.

$$7 - 2 = \boxed{5}$$



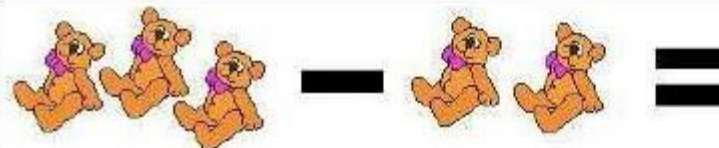

EL 0 --> SIN CAMBIOS

Cualquier número + 0 = mismo número

$$4 + 0 = 4$$

$$0 + 11 = 11$$

RESTAS




Nombre: _____

Aprender a restar con dibujos (2)



Escribe el resultado de estas restas. Puedes colorear los dibujos de postres.



$$9 - 2 =$$



$$8 - 5 =$$



$$5 - 3 =$$




$$6 - 1 =$$



$$7 - 0 =$$

NOTA. Observar el siguiente video y resolvamos problemas
<https://www.youtube.com/watch?v=UjhOHzykdJ8>

¿Cuántos quedan? (1) Tema 4-1



Planteamiento


$$4 - 1 = 3$$

Respuesta

manzanas

menos:

—	—						
---	---	--	--	--	--	--	--

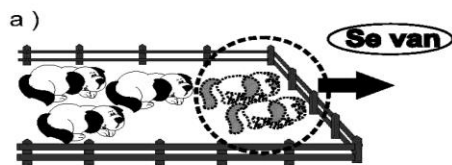


Planteamiento

$$\square - \square = \square$$

Respuesta

bananos

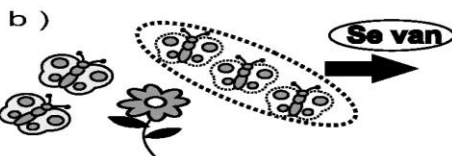


Planteamiento

$$\square - \square = \square$$

Respuesta

perros



Planteamiento

$$\square - \square = \square$$

Respuesta

mariposas

Resto de diez Tema 4-7


Juego ¡Quitamos de 10!

10 - □ = ?

Juguemos en pareja. ¿Quién puede decir el resultado primero?

Resuelvo.

En la bolsa hay 10 dulces.



Saco 5 dulces.

¿Cuántos dulces quedan en la bolsa?

Planteamiento


Respuesta

dulces

Calculo.

- | | | |
|---------------|-------------|--------------|
| a) $10 - 8 =$ | b) $10 - 3$ | c) $10 - 5$ |
| d) $10 - 1$ | e) $10 - 7$ | f) $10 - 9$ |
| g) $10 - 4$ | h) $10 - 0$ | i) $10 - 10$ |

Eric, el erizo, encontró 7 manzanas debajo de un árbol.



Como estaba hambriento, se comió 4 manzanas en el almuerzo.

Tacha las manzanas que se comió el erizo.

Escribe los números y resuelve la operación.


$$\square - \square = \square$$

¿Cuántas manzanas le sobraron para la cena?

Había una vez un cangrejo hambriento que salió a pescar su cena.

Vio nadando 10 pecesitos y logró atrapar 3.

Grafica los números de esta operación.



Tacha los peces que atrapó.

$$\square - \square = \square$$

Fito la foca atrapó 5 peces y se comió 2.
¿Cuántos peces le quedaron?



$$\square - \square = \square$$


Cuantifica los peces y tacha los que Fito se comió.

Escribe los números y resuelve la resta

Piensa y resuelve

Lisa tenía 4 hermosas flores

Decidió regalarle 2 a su abuelita.



(Tacha las flores que Lisa regaló)

Grafica la operación:

$$\square - \square = \square$$